



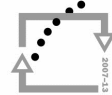
evropský
sociální
fond v ČR



EVROPSKÁ UNIE



MINISTERSTVO ŠKOLSTVÍ,
MLÁDEŽE A TĚLOVÝCHOVY



OP Vzdělávání
pro konkurenceschopnost



INVESTICE DO ROZVOJE VZDĚLÁVÁNÍ

Obyvatelstvo

Struktura obyvatelstva podle sociálních a kulturních znaků

1) Vysvětlete pojmy:

- a) rasa europoidní, mongoloidní, negroidní, mestic, mulat, zambo
- b) jazykový a územní národ, stát národnostně homogenní, nehomogenní
- c) indoevropské jazyky, světová náboženství

2) Uveďte původní rasu obyvatel v těchto oblastech:

- a) sever Afriky
- b) Kanada
- c) Východní Asie
- d) Amazonie
- e) Skandinávie
- f) tropická Afrika
- g) Indie
- h) Arabský poloostrov
- i) Brazílie
- j) Středomoří
- k) Mongolsko
- l) Írán

3) Uveďte, jaké náboženství převažuje v těchto oblastech:

- a) Turecko
- b) Polsko
- c) Indie
- d) JV Asie
- e) Ukrajina
- f) Alžírsko
- g) Gruzie
- h) Severní Evropa
- i) Střední Asie
- j) Írán
- k) Slovinsko
- l) Španělsko



evropský
sociální
fond v ČR



EVROPSKÁ UNIE



MINISTERSTVO ŠKOLSTVÍ,
MLÁDEŽE A TĚLOVÝCHOVY



OP Vzdělávání
pro konkurenceschopnost



INVESTICE DO ROZVOJE VZDĚLÁVÁNÍ

Obyvatelstvo

Struktura obyvatelstva podle sociálních a kulturních znaků

4) S pomocí atlasu popište původní a nynější rasové rozmístění obyvatel

5) Uvedené národy seřaď do dvou skupin a vysvětli:

a) jazykové národy

b) územní národy

Národy:

Američané, Švýcaři, Rakušané, Poláci, Francouzi, Mexičané, Egypťané

6) Uveďte příklady národů, které:

a) přesahují území vlastního státu

b) nemají vlastní stát

7) Pracujte s odkazem:

<http://www.businessinfo.cz/cz/rubrika/teritorialni-informace-zeme/1000540/>

Zjistěte, jaké je národnostní a náboženské složení v následujících státech, jaké jsou úřední jazyky (hledejte pod odkazem Základní informace o teritoriu):

Brazílie

Finsko

Turecko

INVESTICE DO ROZVOJE VZDĚLÁVÁNÍ

Výsledky úkolu 7):

Brazílie:

Brazilci - 49 % evropského původu, 43 % míšeného původu, 7 % afrického původu, 0,5 % asijského původu, 0,5 % původní indiánské obyvatelstvo

Křesťanství 90 % (katolíci 74 %, protestanti 15 %, novodobé křesťanské církve 1 %), ostatní náboženství 3 % (tradiční africké 0,5 %), bez vyznání 7 %

Úřední jazyk: portugalština

Finsko:

91,3% Finů, 5,4% Finů švédskojazyčných, 0,5% Finů ruskojazyčných, 0,03% Laponců

Protestanti 84,2%, pravoslaví 1,1%, katolické jiné 1,2%, bez vyznání 13,2%

Úřední jazyk: finština, švédština

Turecko:

Odhad: 80% Turci, 17% Kurdové, zbývající 3 % (Arméni, Arabové, Řekové, Albánci, Gruzíni, Lazové, Čerkesové, Židé a další).

99,7 % obyvatelstva jsou muslimové (většina sunnité), 0,3 % ostatní (ortodoxního, gregoriánského, židovského, katolického a protestantského vyznání). Řecký ortodoxní i arménský patriarchát sídlí v Istanbulu.

Úřední jazyk: turečtina



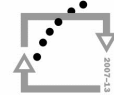
evropský
sociální
fond v ČR



EVROPSKÁ UNIE



MINISTERSTVO ŠKOLSTVÍ,
MLÁDEŽE A TĚLOVÝCHOVY



OP Vzdělávání
pro konkurenceschopnost



INVESTICE DO ROZVOJE VZDĚLÁVÁNÍ

Obyvatelstvo

Struktura obyvatelstva podle sociálních a kulturních znaků

8) Pracujte s následující tabulkou a s mapkou:

Polsko	Poláci 96,7
Slovensko	Slováci 85,8, Maďaři 9,7
Maďarsko	Maďaři 96,9
Rumunsko	Rumuni 89,5, Maďaři 6,5
Bulharsko	Bulhaři 83,9, Turci 9,4
Slovinsko	Slovinci 83, Srbové 2, Chorvati 2
Chorvatsko	Chorvaté 89,6, Srbové 4,5
Bosna a Hercegovina	Bosňáci 48, Srbové 37, Chorvati 14
Srbsko	Srbové 82,9, Maďaři 3,9, Bosňáci 2,1
Černá Hora	Černohorci 43, Srbové 32, Bosňáci 7,8, Albánci 5
Kosovo	Albánci 89,9, Srbové 6,3
Makedonie	Makedonci 64,2, Albánci 25,2
Albánie	Albánci 95

(údaje uvedeny v %)

Tabulka 1: Národnostní složení vybraných států Evropy

Zdroj: <http://www.businessinfo.cz/cz/rubrika/teritorialni-informace-zeme/1000540/>

- Uved'te, které z uvedených států patří k národnostně homogenním a které k nehomogenním
- Jaká je souvislost současného národnostního složení v této oblasti s jejím historickým vývojem?
- Které národy přesahují hranice vlastního státu?
- Jakými jazyky se hovoří v těchto státech? Do kterých jazykových skupin tyto jazyky patří?
- Jakým typem písma se tyto jazyky píšou?
- Jaké náboženství převažuje v těchto státech?

Ethnic Groups in Eastern Europe



802378 (R01084) 5-95

Obrázek 1: Národnostní složení vybraných států Evropy

Zdroj: http://www.lib.utexas.edu/maps/europe/eeurope_ethnic_95.jpg

Obyvatelstvo

Struktura obyvatelstva podle sociálních a kulturních znaků

9) S pomocí následujících mapek urči:

- Ve kterých státech se mluví uvedenými jazyky
- Do kterých skupin tyto jazyky patří
- Jakým typem písma se tyto jazyky píší

Jazyky:

Švédština, němčina, francouzština, italština, maďarština, estonština, rumunština, albánština, srbština, polština, bulharština, lotyšština, řečtina, dánština, ruština, portugalština, norština



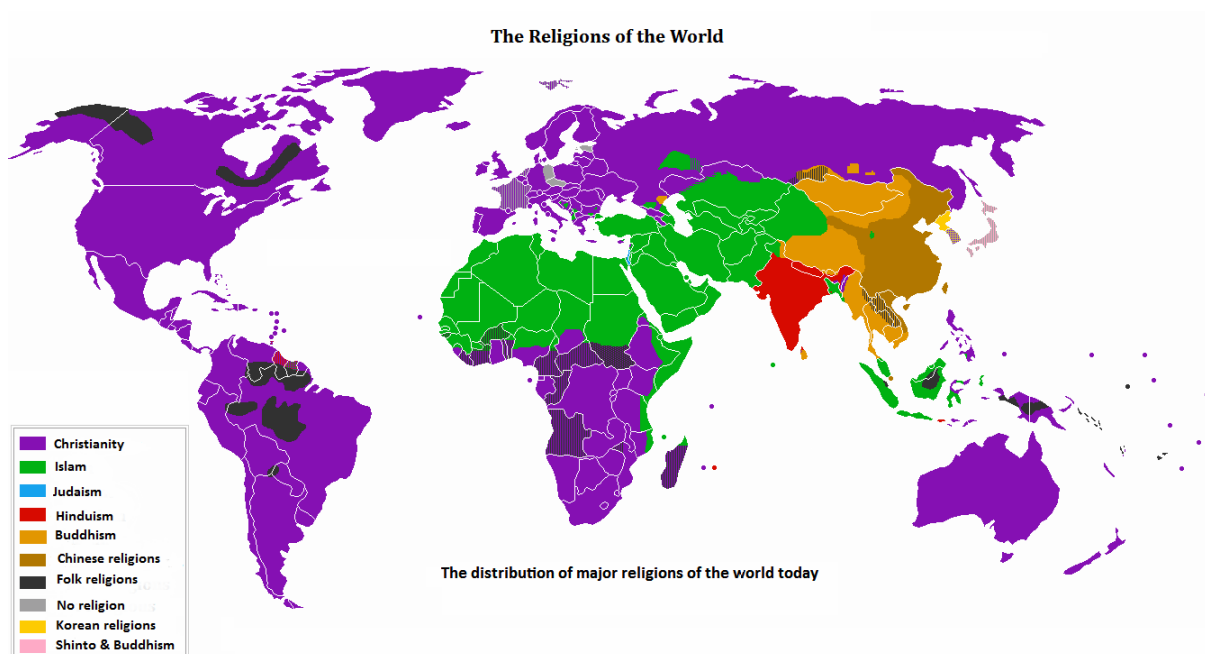
Obrázek 2: Jazyky v Evropě

Zdroj: http://commons.wikimedia.org/wiki/File:Simplified_Languages_of_Europe_map.svg

Obyvatelstvo

Struktura obyvatelstva podle biologických a ekonomických znaků

10) S pomocí mapek popiš rozmístění hlavních světových náboženství:



Obrázek 3: Náboženství ve světě

Zdroj: http://upload.wikimedia.org/wikipedia/commons/a/a6/Religion_distribution.png

11) Ke kterým náboženstvím byste přiřadili následující fotografie?

12) Z kterých států mohou fotografie pocházet? Vyber z nabízených možností:

Španělsko, Turecko, Argentina, Nepál, Japonsko, Izrael, Finsko, Mexiko



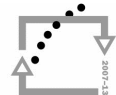
evropský
sociální
fond v ČR



EVROPSKÁ UNIE



MINISTERSTVO ŠKOLSTVÍ,
MLÁDEŽE A TĚLOVÝCHOVY



OP Vzdělávání
pro konkurenceschopnost



INVESTICE DO ROZVOJE VZDĚLÁVÁNÍ



Obrázek 4: Náboženství

Zdroj: <http://www.alpintrek.info/index.php?com=fgal>



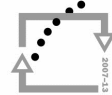
evropský
sociální
fond v ČR



EVROPSKÁ UNIE



MINISTERSTVO ŠKOLSTVÍ,
MLÁDEŽE A TĚLOVÝCHOVY



OP Vzdělávání
pro konkurenceschopnost



INVESTICE DO ROZVOJE VZDĚLÁVÁNÍ

Zdroje:

Teritoriální informace - země. *BusinessInfo* [online]. 1997 - 2011 [cit. 2011-06-01]. Dostupné z:

<http://www.businessinfo.cz/cz/rubrika/teritorialni-informace-zeme/1000540/>

PCL Map Collection. *University of Texas Libraries* [online]. [cit. 2011-06-04]. Dostupné z:

http://www.lib.utexas.edu/maps/europe/eeurope_ethnic_95.jpg

ANDREI NACU. File:Simplified Languages of Europe map.svg. *Wikipedia: the free encyclopedia* [online] 22. 11. 2008 [cit. 2011-06-11].

Dostupné z: http://commons.wikimedia.org/wiki/File:Simplified_Languages_of_Europe_map.svg

THEGREENEDITOR. File:Religion distribution.png. *Wikipedia: the free encyclopedia* [online] 28. 7. 2008 [cit. 2011-06-06]. Dostupné z:

http://en.wikipedia.org/wiki/File:Religion_distribution.png

Fotogalerie. PETR Ivo: *Klub Alpin Trek* [online]. 1999 - 2005 [cit. 2011-05-28]. Dostupné z: <http://www.alpintrek.info/index.php?com=fgal>