



evropský
sociální
fond v ČR



EVROPSKÁ UNIE



MINISTERSTVO ŠKOLSTVÍ,
MLÁDEŽE A TĚLOVÝCHOVY



OP Vzdělávání
pro konkurenceschopnost



INVESTICE DO ROZVOJE VZDĚLÁVÁNÍ

Sídla

1. Pracujte s odkazem: http://www.geohive.com/earth/pop_urban.aspx

a) Zjistěte, jaká je míra urbanizace v těchto státech: Etiopie, Rwanda, Tanzanie, Alžírsko, Egypt, JAR, Čína, Japonsko, Jižní Korea, Afghánistán, Bangladéš, Indie, Nepál, Izrael, Maďarsko, Moldavsko, Polsko, Rusko, Spojené království, Belgie, Česká republika, USA, Austrálie.

b) Státy rozdělte podle míry urbanizace do pěti skupin (v procentech): do 20, 20 až 40, 40 až 60, 60 až 80, více než 80.

c) Státy ve skupinách porovnejte.

2. Pracujte s následujícími mapkami:

<http://cs.wikipedia.org/wiki/Soubor:2006megacities-1-.jpg>

http://commons.wikimedia.org/wiki/File:Urban_population_in_2005_world_map.PNG?uselang=cs

a) Porovnejte výsledky z prvního úkolu s mapkou.

b) V kterých světadílech převažují státy s vyšší mírou urbanizace, v kterých s nižší, proč? Jak to souvisí se zaměstnaností obyvatel podle jednotlivých sektorů?

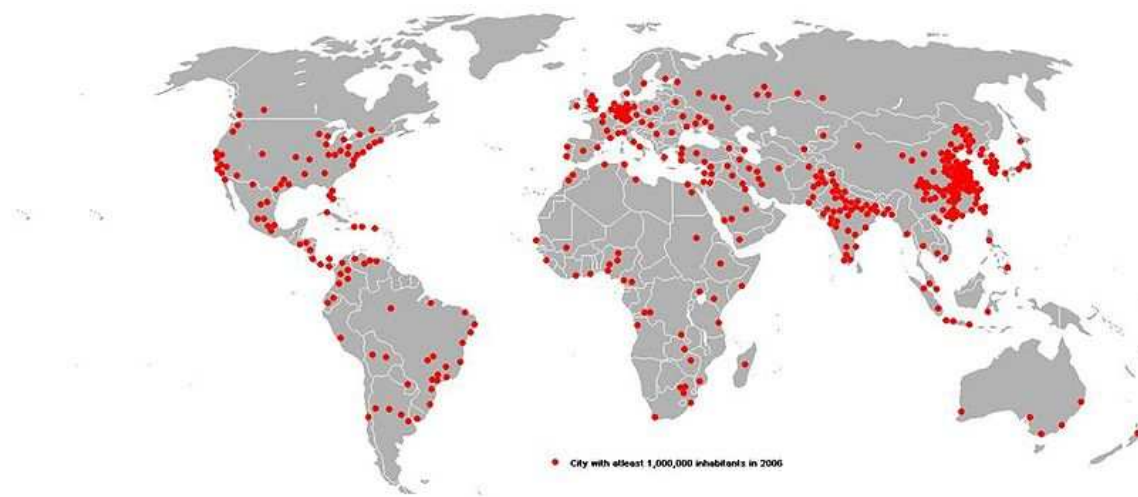
c) Jmenujte příklady států s vysokou a s nízkou mírou urbanizace.

d) Jmenujte významná světová velkoměsta.

e) V kterých oblastech se v současnosti nachází nejvíce nejlidnatějších měst?

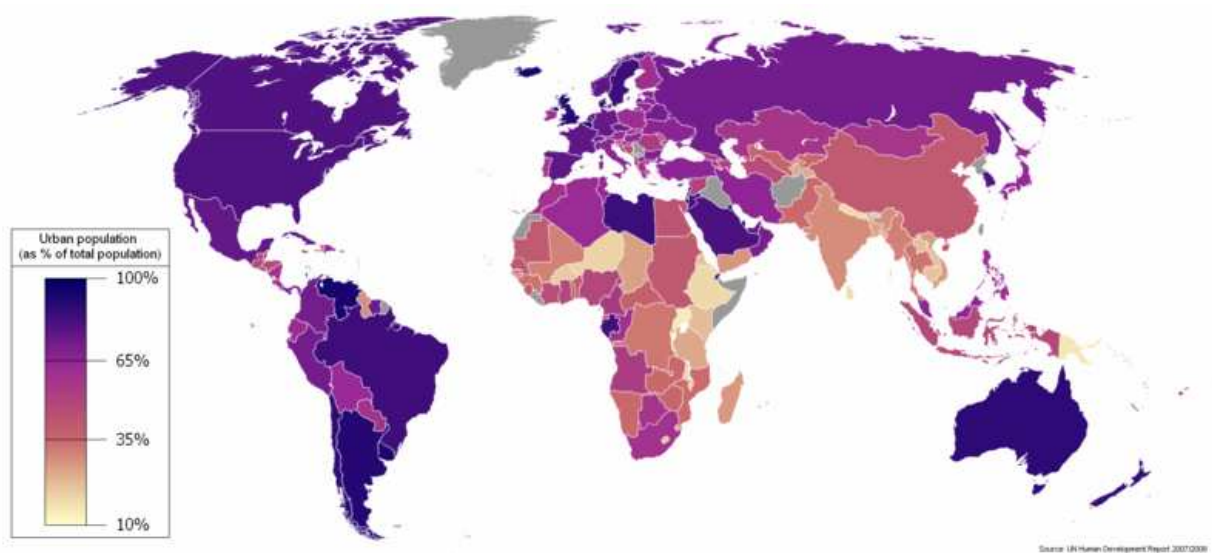
f) Vyjádřete se k městským sídlům Evropy, Asie, Afriky, Ameriky.

INVESTICE DO ROZVOJE VZDĚLÁVÁNÍ



Obr. 1: Světová velkoměsta

Zdroj: <http://cs.wikipedia.org/wiki/Soubor:2006megacities-1-.jpg>



Obr. 2: Míra urbanizace

Zdroj: http://commons.wikimedia.org/wiki/File:Urban_population_in_2005_world_map.PNG?uselang=cs

3. Pracujte s následujícími odkazy:

http://www.geohive.com/earth/cy_aggmillion2.aspx

http://www.geohive.com/earth/cy_agg2025.aspx

Komentujte rychlost nárůstu počtu obyvatel ve vybraných městech.

4. Pracujte s interaktivní mapou na následujícím odkaze:

<http://www.citypopulation.de/world/Agglomerations.html>

a) V kterém světadíle je nejvíce nejlidnatějších měst?

b) V každém světadíle určete několik nejlidnatějších měst a porovnejte navzájem jejich počty obyvatel.

5. Pracujte s odkazem:

<http://www.czso.cz/csu/2010edicniplan.nsf/p/1409-10>

Otevřete odkaz Města a kraje České republiky. Vyhledejte všechna česká velkoměsta.

6. S pomocí následujících odkazů a obrázků vysvětlíte pojmy aglomerace, konurbace, megalopole, uveďte konkrétní příklady.

a) http://www.ruhrgebiet-regionalkunde.de/grundlagen_und_anfaenge/lage_grenzen_verwaltungsgliederung/Lage_Grenzen.php?p=0

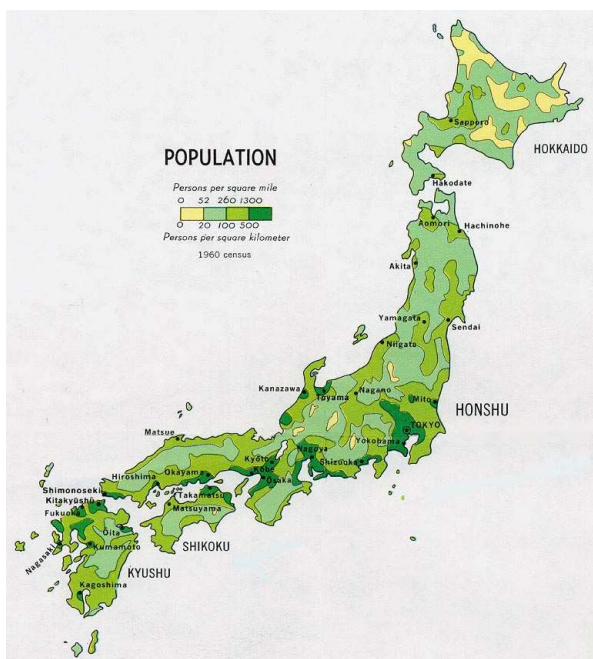
b) <http://www.ladocumentationfrancaise.fr/cartes/eau-ressources-et-infrastructures/c000746-l-arc-rhenan-au-coeur-de-la-megalopole-europeenne>

c) http://commons.wikimedia.org/wiki/File:Rhine_area_analisys.svg?uselang=cs

d) http://www.lib.utexas.edu/maps/middle_east_and_asia/japan_pop_1971.jpg

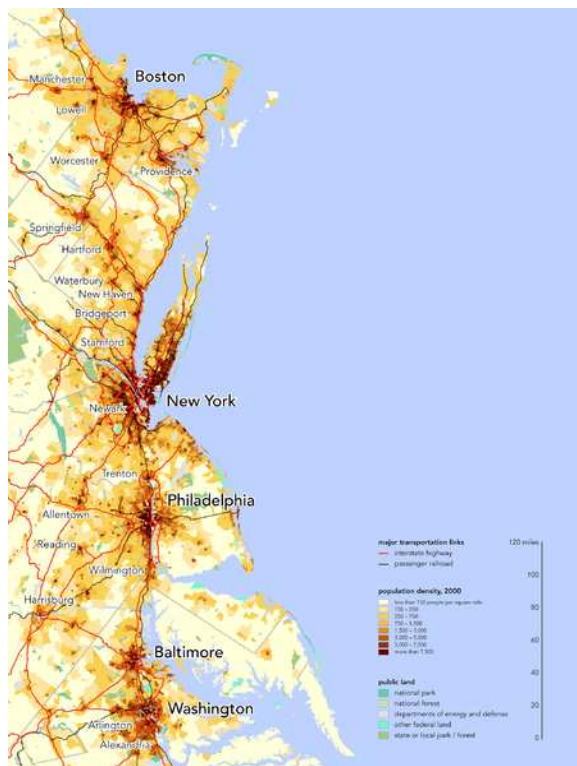
e) <http://commons.wikimedia.org/wiki/File:Boswash.png?uselang=cs>

INVESTICE DO ROZVOJE VZDĚLÁVÁNÍ



Obr. 3: Osídlení Japonska

zdroj: http://www.lib.utexas.edu/maps/middle_east_and_asia/japan_pop_1971.jpg



Obr. 4: Boswash, USA

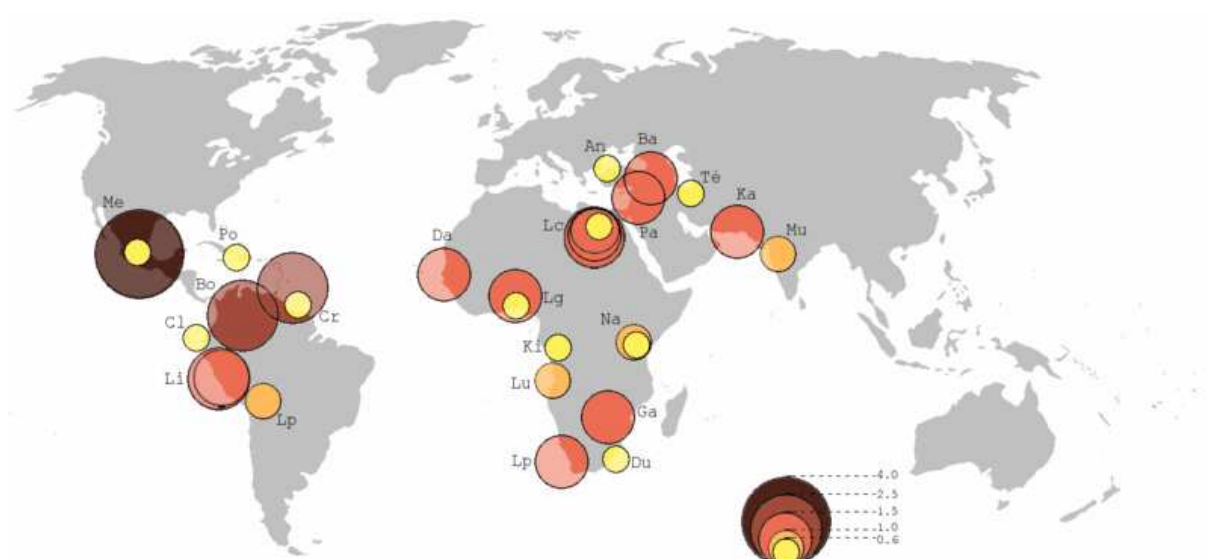
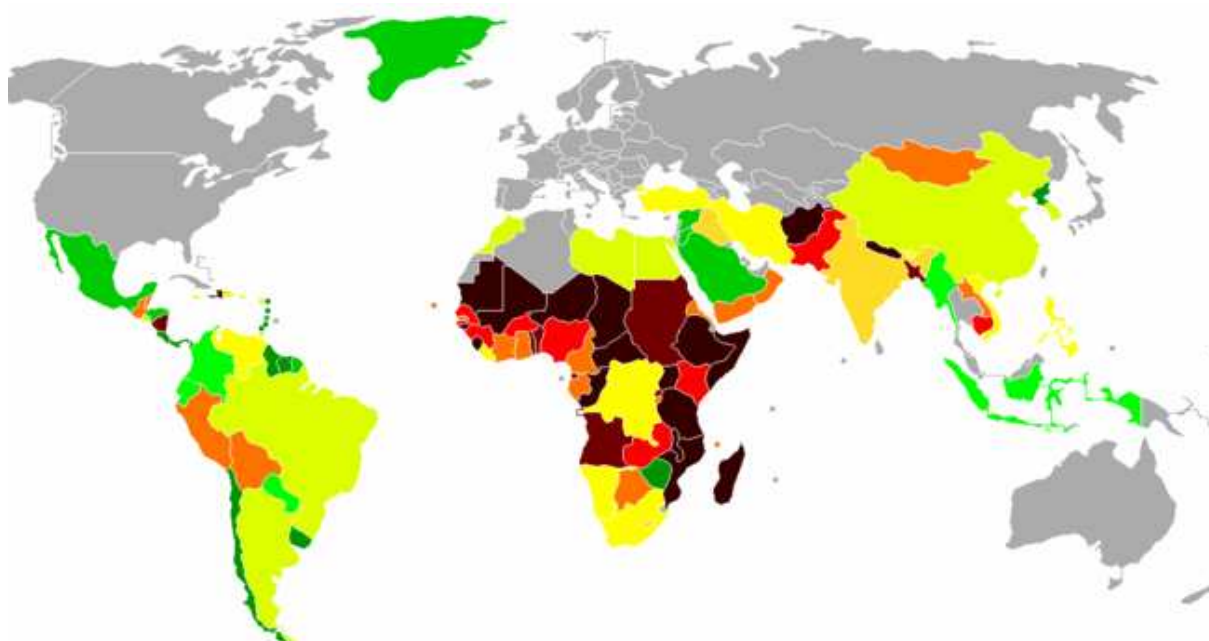
zdroj: <http://commons.wikimedia.org/wiki/File:Boswash.png?uselang=cs>

7. Pracujte s odkazy:

http://commons.wikimedia.org/wiki/File:Urban_population_living_in_slums.png

http://commons.wikimedia.org/wiki/File:Principaux_Bidonvilles.png

Zjistěte, v kterých oblastech žije nejvíce obyvatel ve slumech.





evropský
sociální
fond v ČR



EVROPSKÁ UNIE



MINISTERSTVO ŠKOLSTVÍ,
MLÁDEŽE A TĚLOVÝCHOVY



OP Vzdělávání
pro konkurenceschopnost



INVESTICE DO ROZVOJE VZDĚLÁVÁNÍ

Sídla

Výsledky:

1. Pracujte s odkazem: http://www.geohive.com/earth/pop_urban.aspx

a) Zjistěte, jaká je míra urbanizace v těchto státech: Etiopie, Rwanda, Tanzanie, Alžírsko, Egypt, JAR, Čína, Japonsko, Jižní Korea, Afghánistán, Bangladéš, Indie, Nepál, Izrael, Maďarsko, Moldavsko, Polsko, Rusko, Spojené království, Belgie, Česká republika, USA, Austrálie.

b) Státy rozdělte podle míry urbanizace do pěti skupin (v procentech): do 20, 20 až 40, 40 až 60, 60 až 80, více než 80.

c) Státy ve skupinách porovnejte.

do 20 % Etiopie, Rwanda, Nepál

20 až 40% Tanzanie, Afghánistán, Bangladéš, Indie

40 až 60% Egypt, Čína, Moldavsko

60 až 80% Alžírsko, JAR, Japonsko, Maďarsko, Polsko, Rusko, Spojené království, ČR

nad 80% Jižní Korea, Izrael, Belgie, USA, Austrálie

Zdroje:

COCOLIRAS. Soubor:2006megacities-1-.jpg. *Wikipedia: the free encyclopedia* [online]. San Francisco (CA): Wikimedia Foundation, 2001-2011, 19. 4. 2008 [cit. 2011-09-06].

Dostupné z: <http://cs.wikipedia.org/wiki/Soubor:2006megacities-1-.jpg>

SBW01F. File:Urban population in 2005 world map.PNG. *Wikimedia commons* [online]. 2008 [cit. 2011-09-16]. Dostupné z:

http://commons.wikimedia.org/wiki/File:Urban_population_in_2005_world_map.PNG?uselang=cs

PCL Map Collection. *University of Texas Libraries* [online]. [cit. 2011-10-08]. Dostupné z:

http://www.lib.utexas.edu/maps/middle_east_and_asia/japan_pop_1971.jpg

RANKIN, Bill. File:Boswash.png. *Wikimedia commons* [online]. 2009 [cit. 2011-09-06]. Dostupné z:

<http://commons.wikimedia.org/wiki/File:Boswash.png?uselang=cs>

FABIENKHAN, KORRIGAN. File:Urban population living in slums.png. *Wikipedia: the free encyclopedia* [online] 16. 5. 2007 [cit. 2011-09-17]. Dostupné z:

http://commons.wikimedia.org/wiki/File:Urban_population_living_in_slums.png

WALKÉ. File:Principaux Bidonvilles.png. *Wikipedia: the free encyclopedia* [online] 25. 8. 2007 [cit. 2011-09-06]. Dostupné z:

http://commons.wikimedia.org/wiki/File:Principaux_Bidonvilles.png



evropský
sociální
fond v ČR



EVROPSKÁ UNIE



MINISTERSTVO ŠKOLSTVÍ,
MLÁDEŽE A TĚLOVÝCHOVY



OP Vzdělávání
pro konkurenceschopnost



INVESTICE DO ROZVOJE VZDĚLÁVÁNÍ

Sídla

Vyzkoušejte se:

1) Vysvětlete pojmy:

- a) venkovská sídla rozptýlená, seskupená
- b) prostorové uspořádání venkovských sídel: návesní, liniové
- c) urbanizace, suburbanizace, funkce měst
- d) velkoměsto, světové velkoměsto, aglomerace
- e) konurbace, megalopole

2) Určete, která tvrzení jsou pravdivá:

- a) V současnosti se na zeměkouli již nesetkáme s přechodnými sídly.
- b) V nejvyspělejších státech světa, např. v USA, Austrálii a Německu převažují seskupená venkovská sídla.
- c) Pojmem město označujeme každé sídlo nad určitý počet obyvatel.
- d) V České republice patří k velkoměstům Praha, Brno, Ostrava, Plzeň, Olomouc.
- e) K významným konurbacím Evropy patří Porúří ve Francii.
- f) Problémem rozvojového světa je rostoucí počet obyvatel ve slumech.
- g) Ke státům, které mají míru urbanizace nižší než 50% patří např.: Čína, Indie, Nepál, Tanzanie, Keňa.