

STÁTNI HRANICE


Funkce státní hranice

1. Která z uvedených funkcí hranic (**dělicí** – **spojující**) se v současnosti prosazuje ve vyspělých částech světa, hlavně v existujících hospodářsko –politických seskupeních?

2. V oblastech, kde spolu sousedí vyspělé demokratické státy (státy EU),začaly hranice postupně ztrácet svou bariérovou funkci. Posuďte, jak tuto situaci ovlivnil, počínaje zářím 2001, mezinárodní terorismus a jakou úlohu v ochraně před ním hraje právě ochrana hranic.

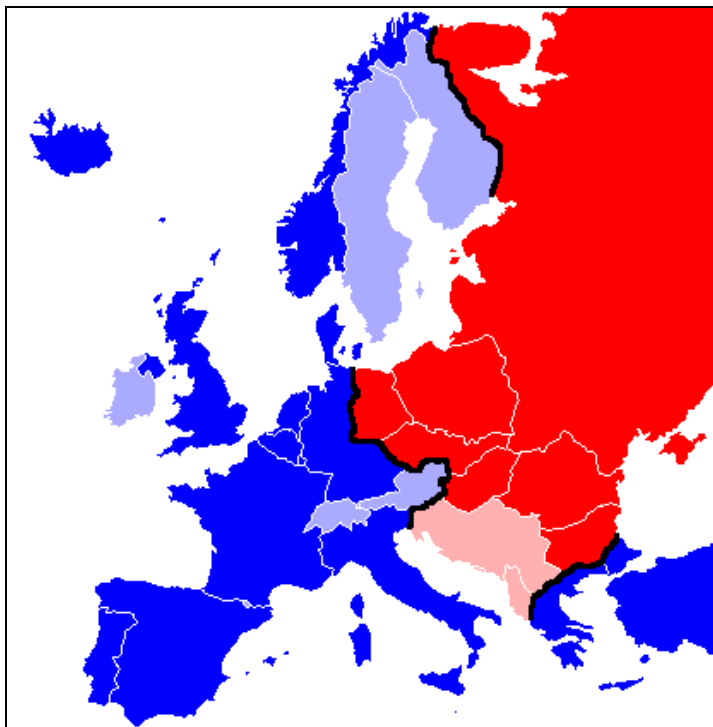
3. Vysvětlete, jak různé státy zabezpečují své hranice, kde a za jakých podmínek lze státní hranice překračovat. Co v tomto směru přináší občanům členství v EU? Pracujte s následujícím uvedeným odkazem.

http://zpravy.idnes.cz/bariery-z-betonu-a-oceli-oddeluji-svety-a-jitri-vztahy-presto-rostou-stale-nove-g0y-/zahranicni.aspx?c=A100602_174328_zahranicni_stf



Obrázek 1: zdroj: http://cs.wikipedia.org/wiki/Soubor:DPRK_Soldier.JPG

4. Která hranice byla nazývána „**železnou oponou**“, které dva světy neprodyšně oddělovala a v kterém období existovala?



Obrázek 2: zdroj: <http://cs.wikipedia.org/wiki/Soubor:EiserneVorhang.png>

5. Jak se projevovala tato „železná opona“ na naší státní hranici se západními sousedy v době před listopadem 1989? Podrobnosti získáte na této uvedené adrese. http://cs.wikipedia.org/wiki/%C5%BDelezn%C3%A1_opona



Obrázek 3: zdroj: http://cs.wikipedia.org/wiki/%C5%BDelezn%C3%A1_opona

6. Jakými prostředky se řeší sporné případy vedení státních hranic?. Uveďte příklady.

7. Srovnáním staršího a současného atlasu, zjistěte v jednotlivých světadílech státy, které **změnily** v druhé polovině 20.století svůj **název** popřípadě **hranice**.

Tento pracovní list byl vytvořen v rámci projektu CZ.1.07/1.1.04/03.0045

8. Jak se změnil tvar a geografická poloha našeho státu mezi osmdesátými lety a současností?



Obrázek 4: Československo po federalizaci po roce 1969

zdroj: <http://cs.wikipedia.org/wiki/Soubor:%C4%8CSSR-mapa.png>

9. Pracujte s interaktivní mapou Shengenského prostoru:

<http://www.euroskop.cz/742/sekce/aktualni-stav/>

- A. Které státy jsou součástí tohoto prostoru?
- B. Které země jsou součástí Shengenského prostoru a nejsou členy Evropské unie?
- C. Použijte informace z uvedené adresy a vysvětlete: a) co je to Shengen
b) co je to eurozóna
- D. Charakterizujte v prostoru Shengenu vnitřní a vnější hranice.



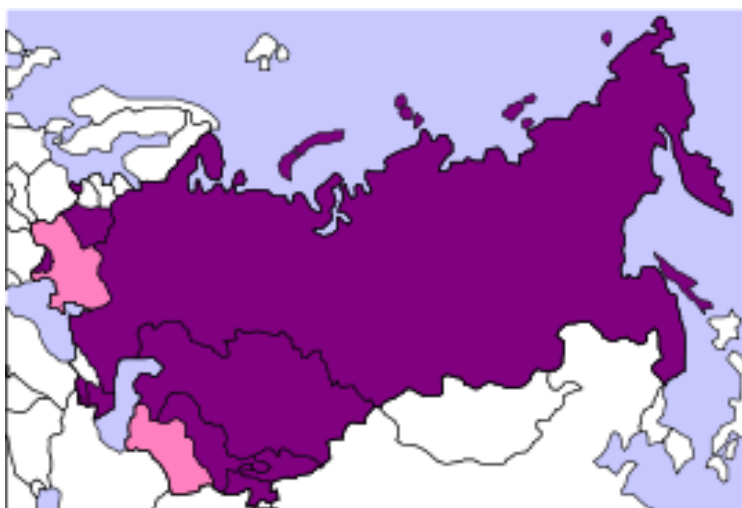
Obrázek 5: zdroj: http://cs.wikipedia.org/wiki/%C5%BDelezn%C3%A1_opona

Tento pracovní list byl vytvořen v rámci projektu CZ.1.07/1.1.04/03.0045

Hranice přírodní, umělé

1. Uved'te příklady přírodních a umělých hranic.
2. Jaké jsou důvody vzniku geometrických hranic, které přináší problémy?
3. Najděte na mapách příklady geometricky vytvořených hranic a pokuste se vysvětlit, za jakých okolností tyto hranice vznikaly.
4. Na mapě Severní Ameriky zjistěte, kde mají USA se svými sousedy hranice umělé a kde přirozené.
5. Ve kterých částech Evropy docházelo ve 20. století ke změnám hranic a uveďte důvody.
6. Kolikrát ČR změnila své území jejímž byla součástí (od roku 1915 do dneška).
7. Jaké výhody přináší vstup ČR do Evropské unie.
8. Pracujte s mapou Evropy a zjistěte hranice zformované nově po roce 1990.
http://cs.wikipedia.org/wiki/Soubor:Grossgliederung_Europas.png
9. Které nezávislé státy vznikly na území SSSR po jeho rozpadu a které z nich nejsou členy SNS.
http://www.google.cz/search?sourceid=navclient&hl=cs&ie=UTF-8&rlz=1T4SKPT_csCZ430CZ439&q=SNS

Společenství nezávislých států



Obrázek č. 3:

zdroj: http://cs.wikipedia.org/wiki/Spole%C4%8Denstv%C3%AD_nez%C3%A1visl%C3%BDch_st%C3%A1t%C5%AF

Tento pracovní list byl vytvořen v rámci projektu CZ.1.07/1.1.04/03.0045

Použité zdroje:

- BIČÍK, Ivan a Bohumír JANSKÝ. *Příroda a lidé Země: Učebnice zeměpisu pro střední školy*. Praha: Nakladatelství České geografické společnosti s. r. o., 2001. ISBN 80-86034-45-3.
- DEMEK, Jaromír, Vít VOŽENÍLEK a Miroslav VYSOUDIL. *Geografie pro střední školy 1: Fyzickogeografická část*. Praha: SPN - pedagogické nakladatelství, akciová společnost, 1997. ISBN 80-85937-73-5.
- BIČÍK, Ivan, Vladimír BAAR, Zdeněk ČERMÁK, Václav FRAJER a Radim PERLÍN. *Hospodářský zeměpis: globální geografické aspekty světového hospodářství*. Praha: Nakladatelství České geografické společnosti s. r. o., 2003. ISBN 80-86034-52-6.
- VALENTA, Václav a Alois MICHÁLEK. *Současný svět: Učebnice zeměpisu pro základní školy a víceletá gymnázia*. Praha: Nakladatelství České geografické společnosti, s. r. o., 1998. ISBN 80-86034-21-6.
- SMOLOVÁ, Irena a Miroslav VYSOUDIL. *Zeměpis na dlani*. Olomouc: Rubico, 2003. ISBN 80-85839-88-1.
- KRÁL, Václav. *Fyzická geografie Evropy*. Praha: Academia, 1999. ISBN 80-200-0684-2.
- PLUSKAL, Miroslav, Petr BRADÁČ, Petr KRAUS a Marie KRAUSOVÁ. *Zeměpis pro 8.ročník: Společenské složky krajiny, Politická mapa světa*. Praha: Nakladatelství Alter, 2003. ISBN 80-7245-049-2.
- SMOLOVÁ, Irena a Miroslav VYSOUDIL. *Zeměpis: Ilustrovaný přehled středoškolského zeměpisu*. Olomouc: Rubico, 2003. ISBN 80-85839-88-1

Odkazy:

- KRISTOFERB. Soubor:DPRK Soldier.JPG. In: *Wikipedia: the free encyclopedia* [online]. San Francisco (CA): Wikimedia Foundation, 2001- [cit. 2012-05-16]. Dostupné z: http://cs.wikipedia.org/wiki/Soubor:DPRK_Soldier.JPG
- C.LINGG. Soubor:EiserneVorhang.png. In: *Wikipedia: the free encyclopedia* [online]. San Francisco (CA): Wikimedia Foundation, 2001- [cit. 2012-05-16]. Dostupné z: <http://cs.wikipedia.org/wiki/Soubor:EiserneVorhang.png>
- Soubor:Cizov opona.JPG. In: *Wikipedia: the free encyclopedia* [online]. San Francisco (CA): Wikimedia Foundation, 2001- [cit. 2012-05-16]. Dostupné z: http://cs.wikipedia.org/wiki/Soubor:Cizov_opona.JPG
- Soubor:ČSSR-mapa.png. In: *Wikipedia: the free encyclopedia* [online]. San Francisco (CA): Wikimedia Foundation, 2001- [cit. 2012-05-16]. Dostupné z: <http://cs.wikipedia.org/wiki/Soubor:%C4%8CSSR-mapa.png>
- Soubor:SchengenAgreement map.png. In: *Wikipedia: the free encyclopedia* [online]. San Francisco (CA): Wikimedia Foundation, 2001- [cit. 2012-05-16]. Dostupné z: http://cs.wikipedia.org/wiki/Soubor:SchengenAgreement_map.png
- Soubor:CIS Map.svg. In: *Wikipedia: the free encyclopedia* [online]. San Francisco (CA): Wikimedia Foundation, 2001- [cit. 2012-05-16]. Dostupné z: http://cs.wikipedia.org/wiki/Soubor:CIS_Map.svg

