



evropský
sociální
fond v ČR



EVROPSKÁ UNIE



MINISTERSTVO ŠKOLSTVÍ,
MLÁDEŽE A TĚLOVÝCHOVY



OP Vzdělávání
pro konkurenceschopnost



INVESTICE DO ROZVOJE VZDĚLÁVÁNÍ

Mezinárodní ekonomické integrace

Vybrané ekonomické integrace

1. Zjistěte co znamená zkratka **G8** a napište, které státy do ní patří.



Obrázek č.1 zdroj: <http://en.wikipedia.org/wiki/G8>
http://en.wikipedia.org/wiki/File:G8_organization.svg

2. Jaká je struktura a aktivity neformálního sdružení G8.

<http://cs.wikipedia.org/wiki/G8>

3. G8 je nastavena na řešení hladu v Africe. Na uvedené adrese najdete problémy globálního charakteru, jeden z nich si vyberte a vytvořte krátkou prezentaci.

http://translate.googleusercontent.com/translate_c?hl=cs&langpair=en%7Ccs&rurl=translate.google.cz&u=http://news.bbc.co.uk/2/hi/business/8131179.stm&usg=ALkJrhg05CBBwwtN1mxeSb4VTsW4_C6wCQ



evropský
sociální
fond v ČR



EVROPSKÁ UNIE



MINISTERSTVO ŠKOLSTVÍ,
MLÁDEŽE A TĚLOVÝCHOVY



OP Vzdělávání
pro konkurenceschopnost



INVESTICE DO ROZVOJE VZDĚLÁVÁNÍ



Obrázek č.2 zdroj:

http://translate.googleusercontent.com/translate_c?hl=cs&langpair=en%7Ccs&rurl=translate.google.cz&u=http://news.bbc.co.uk/2/hi/in_depth/8142048.stm&usg=ALkJrhi5jZnAyKeh71I1u5dNjBmYQY7LrA

Příklady: 1. Sliby G8 – co znamenají

2. G8 se zavazuje posílit dodávky potravin

3. Klimatické změny na celém světě

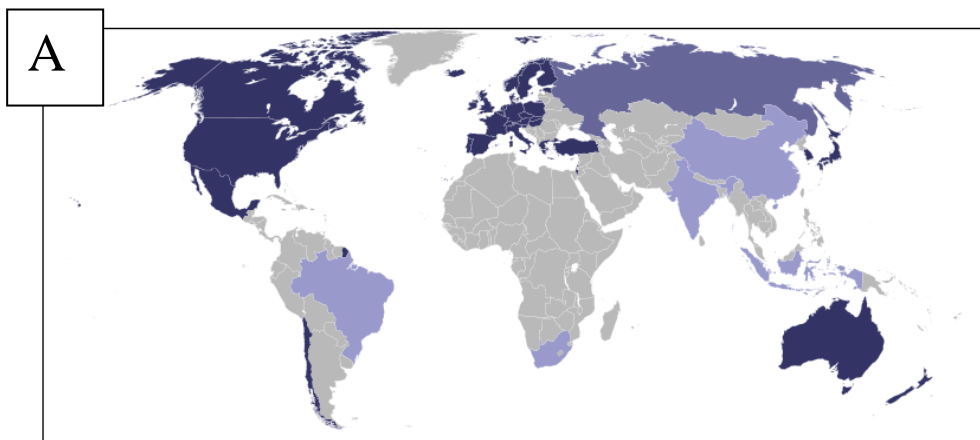
4. Energetika a klima

5. Výzvy G8

4. Vysvětlíte zkratky jednotlivých organizací a uveďte zda je ČR součástí některých z nich. OECD, EFTA = ESVO, CEFTA.

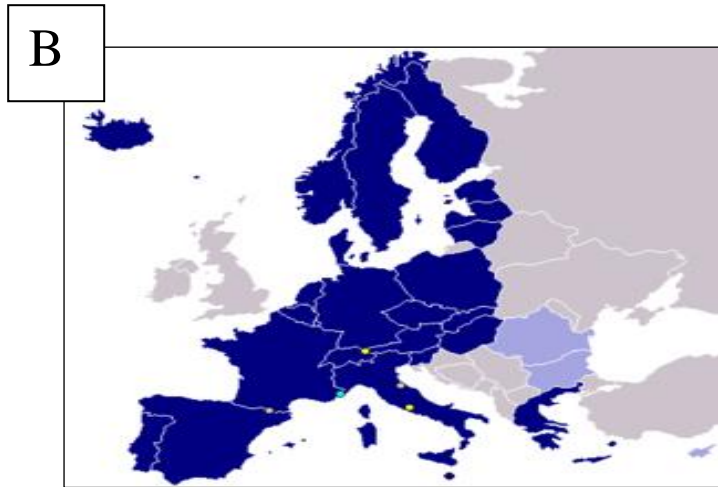
5. Vyberte si jednu z nich a charakterizujte její činnost. Zjistěte kdy vznikla a za jakým účelem.

6. K jednotlivým mapkám A – D přiřadte pojmy: **EUROZÓNA, EFTA, OECD, CEFTA.**

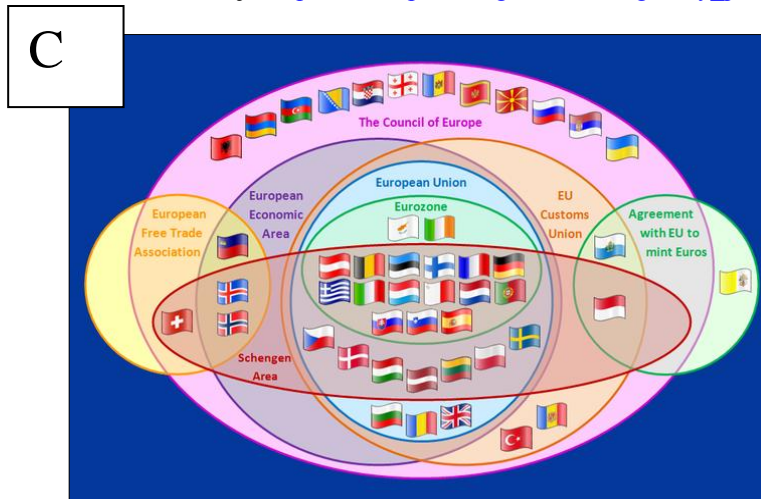


Obrázek č.3 zdroj: http://cs.wikipedia.org/wiki/Organizace_pro_hospodářskou_spolupráci_a_rozvoj

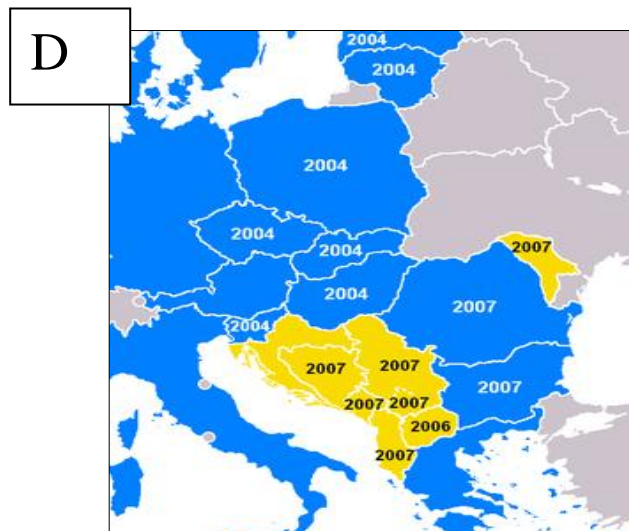
INVESTICE DO ROZVOJE VZDĚLÁVÁNÍ



Obrázek č.4 zdroj: http://cs.wikipedia.org/wiki/Schengenský_prostor

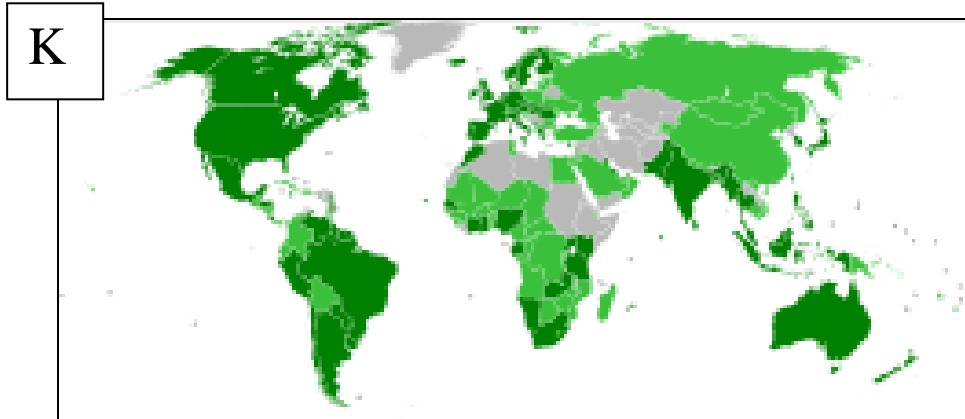


Obrázek č.5 zdroj: http://cs.wikipedia.org/wiki/Soubor:EFTA_AELE_countries.svg

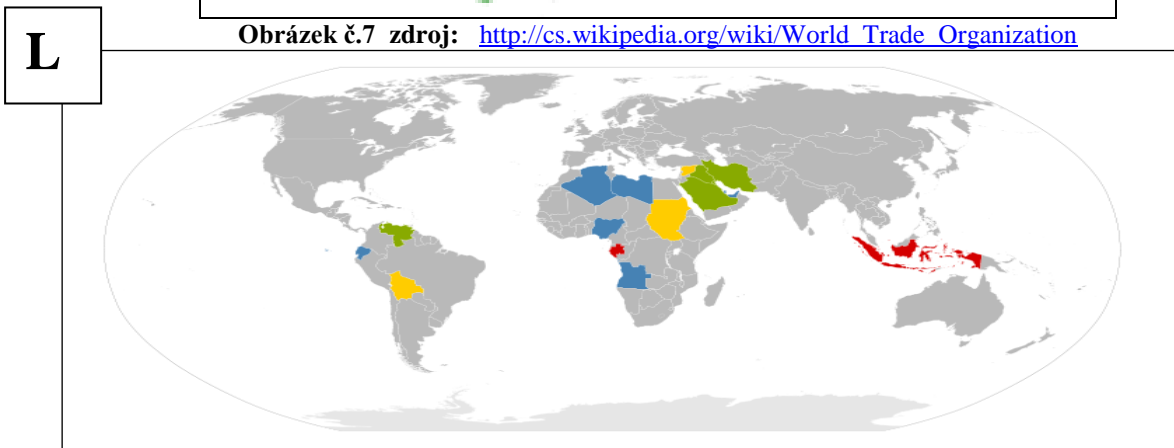


Obrázek č. 6 zdroj: http://cs.wikipedia.org/wiki/Soubor:CEFTA_2007.PNG

7. Zjistěte, které jsou základní body Schengenské dohody – je jich celkem 7.
http://cs.wikipedia.org/wiki/Schengenský_prostor#Principy_schengensk.C3.A9ho_prostoru
Pluskal, M.: Zeměpis, Společenské složky krajiny, politická mapa světa, Alter 2003
8. Stejným způsobem k mapkám s písmeny **K – O** přiřadte následující pojmy:
MERCOSOUR, OPEC, APEC, WTO, NAFTA.
9. Vyberte si jednu z nich a charakterizujte její činnost a problémy.



Obrázek č.7 zdroj: http://cs.wikipedia.org/wiki/World_Trade_Organization



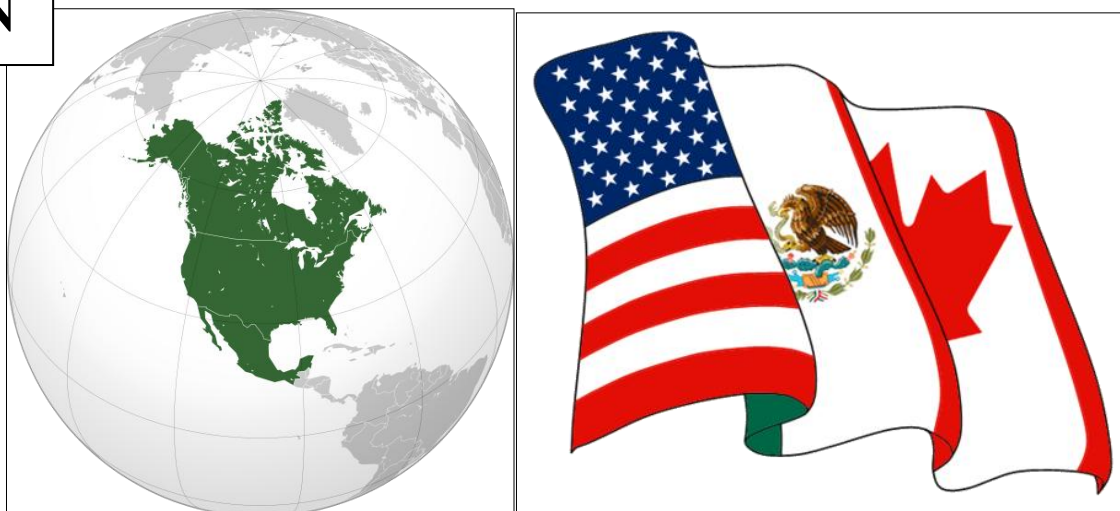
Obrázek č.8 zdroj: http://cs.wikipedia.org/wiki/Soubor:OPEC_now.svg http://cs.wikipedia.org/wiki/Soubor:APECMitgliedsstaaten_map_redraw.png



Obrázek č.9 zdroj: http://cs.wikipedia.org/wiki/Soubor:APECMitgliedsstaaten_map_redraw.png

INVESTICE DO ROZVOJE VZDĚLÁVÁNÍ

N



Obrázek č.10 zdroj: http://cs.wikipedia.org/wiki/Soubor:NAFTA_logo.png

O



Obrázek č.10 zdroj: <http://cs.wikipedia.org/wiki/Soubor:Mercosul.svg>



evropský
sociální
fond v ČR



EVROPSKÁ UNIE



MINISTERSTVO ŠKOLSTVÍ,
MLÁDEŽE A TĚLOVÝCHOVY



OP Vzdělávání
pro konkurenceschopnost



INVESTICE DO ROZVOJE VZDĚLÁVÁNÍ

Použité zdroje:

File:G8 organization.svg. In: *Wikipedia: the free encyclopedia* [online]. San Francisco (CA): Wikimedia Foundation, 2001- [cit. 2012-06-02]. Dostupné z: http://en.wikipedia.org/wiki/File:G8_organization.svg

EMILFARO. Soubor:OECD.svg. In: *Wikipedia: the free encyclopedia* [online]. San Francisco (CA): Wikimedia Foundation, 2001- [cit. 2012-06-02]. Dostupné z: <http://cs.wikipedia.org/wiki/Soubor:OECD.svg>

Soubor:Schengen Area.svg. In: *Wikipedia: the free encyclopedia* [online]. San Francisco (CA): Wikimedia Foundation, 2001- [cit. 2012-06-02]. Dostupné z: http://cs.wikipedia.org/wiki/Soubor:Schengen_Area.svg

REIS, Júlio. Soubor:EFTA AELE countries.svg. In: *Wikipedia: the free encyclopedia* [online]. San Francisco (CA): Wikimedia Foundation, 2001- [cit. 2012-06-02]. Dostupné z: http://cs.wikipedia.org/wiki/Soubor:EFTA_AELE_countries.svg

Soubor:CEFTA 2007.PNG. In: *Wikipedia: the free encyclopedia* [online]. San Francisco (CA): Wikimedia Foundation, 2001- [cit. 2012-06-02]. Dostupné z: http://cs.wikipedia.org/wiki/Soubor:CEFTA_2007.PNG

EMILFARO. Světová obchodní organizace. In: *Wikipedia: the free encyclopedia* [online]. San Francisco (CA): Wikimedia Foundation, 2001- [cit. 2012-06-02]. Dostupné z: http://cs.wikipedia.org/wiki/Sv%C4%9Btov%C3%A1_obchodn%C3%AD_organizace

Soubor:OPEC now.svg. In: *Wikipedia: the free encyclopedia* [online]. San Francisco (CA): Wikimedia Foundation, 2001- [cit. 2012-06-02]. Dostupné z: http://cs.wikipedia.org/wiki/Soubor:OPEC_now.svg

Soubor:APECMitgliedsstaaten map redraw.png. In: *Wikipedia: the free encyclopedia* [online]. San Francisco (CA): Wikimedia Foundation, 2001- [cit. 2012-06-02]. Dostupné z: http://cs.wikipedia.org/wiki/Soubor:APECMitgliedsstaaten_map_redraw.png

COVARRUBIAS, Alex. Soubor:NAFTA logo.png. In: *Wikipedia: the free encyclopedia* [online]. San Francisco (CA): Wikimedia Foundation, 2001- [cit. 2012-06-02]. Dostupné z: http://cs.wikipedia.org/wiki/Soubor:NAFTA_logo.png

MENEGAZ, Felipe. Soubor:Mercosul.svg. In: *Wikipedia: the free encyclopedia* [online]. San Francisco (CA): Wikimedia Foundation, 2001- [cit. 2012-06-02]. Dostupné z: <http://cs.wikipedia.org/wiki/Soubor:Mercosul.svg>



evropský
sociální
fond v ČR



EVROPSKÁ UNIE



MINISTERSTVO ŠKOLSTVÍ,
MLÁDEŽE A TĚLOVÝCHOVY



OP Vzdělávání
pro konkurenceschopnost



INVESTICE DO ROZVOJE VZDĚLÁVÁNÍ