

## JV Evropa

### Přírodní podmínky

1) Podle mapky lokalizujte státy JV Evropy, jejich hlavní města, významné celky reliéfu, vodní toky, jezera. Kde se nachází: Durmitor, Prokletije, Ohridské jezero, Rila, Pirin, Stara planina, Sáva, Morava, Marica, Vardar, Dunaj, Skadar, Prespanské jezero, Vitoša, Brač?  
Odkaz: [http://d-maps.com/carte.php?lib=balkans\\_map&num\\_car=13449&lang=en](http://d-maps.com/carte.php?lib=balkans_map&num_car=13449&lang=en)

2) Podle následující mapky popiš hlavní vodní toky Srbska:



Obrázek 1: Srbsko: řeky a jejich povodí

Zdroj: [http://commons.wikimedia.org/wiki/File:Serbia\\_drainage\\_basins-sr.GIF?uselang=cs](http://commons.wikimedia.org/wiki/File:Serbia_drainage_basins-sr.GIF?uselang=cs)



evropský  
sociální  
fond v ČR



EVROPSKÁ UNIE



MINISTERSTVO ŠKOLSTVÍ,  
MLÁDEŽE A TĚLOVÝCHOVY



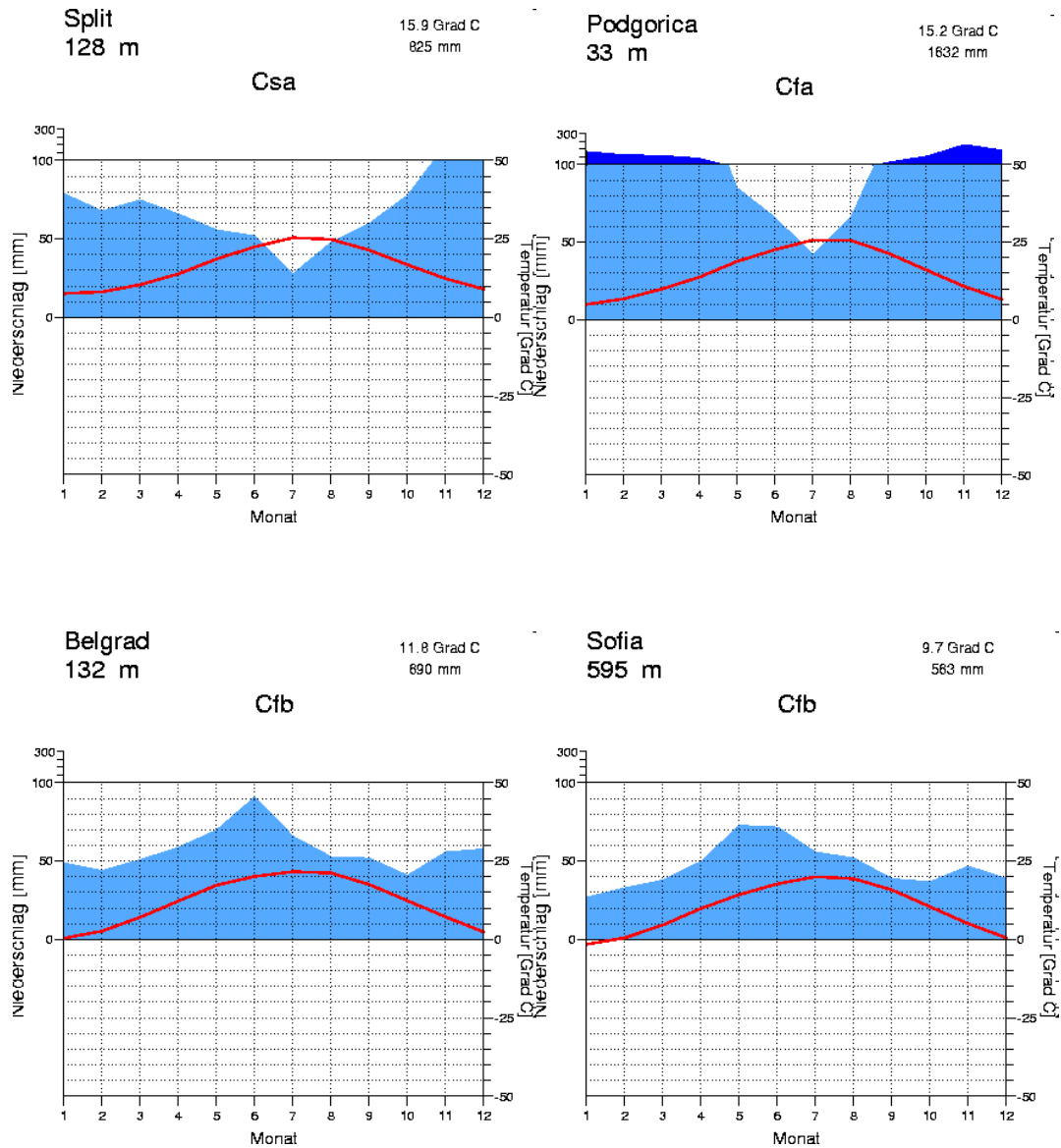
OP Vzdělávání  
pro konkurenceschopnost



### INVESTICE DO ROZVOJE VZDĚLÁVÁNÍ

3) Pracujte s odkazem: <http://www.klimadiagramme.de/>

V jakých podnebných oblastech se nachází Balkánský poloostrov? Jaký je roční chod tepla a srážek v uvedených lokalitách? Jaká vegetace odpovídá jednotlivým podnebným oblastem? Vysvětli pojmy macchie, šibljak, Crkvica u Kotoru. Které znáš chráněné oblasti JV Evropy?



Obrázek 2: Klimadiagramy

Zdroj: <http://www.klimadiagramme.de/>

## Státy

4) S pomocí odkazu:

[http://www.google.cz/publicdata/explore?ds=d5bncppjof8f9\\_&ctype=l&strail=false&bcs=d&nselm=h&hl=cs&dl=cs](http://www.google.cz/publicdata/explore?ds=d5bncppjof8f9_&ctype=l&strail=false&bcs=d&nselm=h&hl=cs&dl=cs)

porovnávejte státy JV Evropy podle různých ukazatelů, komentujte grafy.

5) Porovnejte státy podle rozlohy a počtu obyvatel. Údaje aktualizujte podle níže uvedeného odkazu.

	rozloha (tis. km <sup>2</sup> )	počet obyvatel (mil.)
Slovinsko	20,3	2,0
Chorvatsko	56,6	4,5
Bosna a Hercegovina	51,2	3,8
Srbsko	77,5	7,2
Černá Hora	13,8	0,6
Makedonie	25,7	2,0
Kosovo	10,9	1,8
Albánie	28,7	3,0

Tabulka 1: Rozloha a počet obyvatel států JV Evropy (údaje z roku 2014)

Zdroj: [https://www.cia.gov/library/publications/the-world-factbook/wfbExt/region\\_eur.html](https://www.cia.gov/library/publications/the-world-factbook/wfbExt/region_eur.html)

6) Vyjádřete se k ekonomice jednotlivých států.

7) Vysvětlete pojmy:

a) Koper, Mostar, Vojvodina, Priština, Ohrid

b) Dráva, Podgorica, Nikšič, Tirana, Sarajevo

c) Maribor, Bar, Zenica, Split, Saranda

d) Gorenje, Durmitor, Tito, Rijeka, Trepča

e) Bled, Kotor, Dubrovnik, Plečnik, Novi Sad

INVESTICE DO ROZVOJE VZDĚLÁVÁNÍ

8) Popište národnostní složení, jazyky, typy písma a náboženské vyznání v jednotlivých státech JV Evropy:



Obrázek 3: Národnostní složení JV Evropy

Zdroj: [http://commons.wikimedia.org/wiki/File:Yugoslavia\\_ethnic\\_map.jpg?uselang=cs](http://commons.wikimedia.org/wiki/File:Yugoslavia_ethnic_map.jpg?uselang=cs)

a) Které státy jsou jednonárodnostní? Ve kterých státech se objevuje nějaká národnostní menšina? Ve kterém státě je situace nejsložitější, jak je proto vyřešeno její státoprávní uspořádání?

b) Které jazyky se píšou latinkou, které cyrilicí?

c) Jaké náboženské vyznání převažuje u jednotlivých národností?

## Historický vývoj

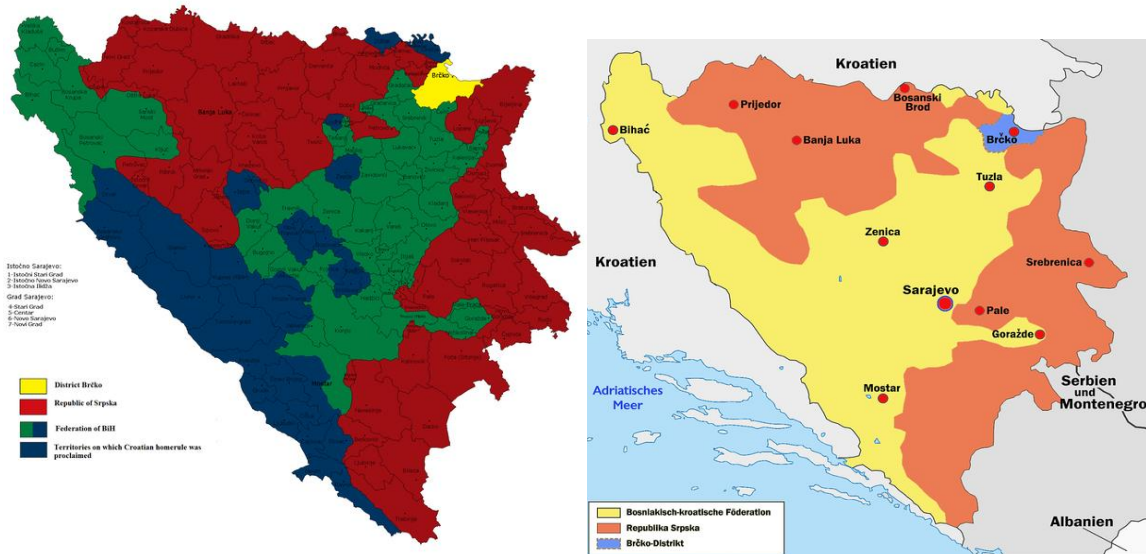
9) S pomocí mapek popište, jak se změnila politická mapa Balkánského poloostrova od konce 19. století:



Obrázek 4: Historický vývoj JV Evropy

Zdroj: <http://maps.grida.no/go/graphic/political-history-of-the-balkan-region>

10) S pomocí následujících map se vyjádřete k národnostnímu složení a ke státoprávnímu uspořádání Bosny a Hercegoviny. Pracujte s odkazem: [http://commons.wikimedia.org/wiki/Category:Animated\\_maps\\_of\\_Bosnia\\_and\\_Herzegovina?uselang=cs](http://commons.wikimedia.org/wiki/Category:Animated_maps_of_Bosnia_and_Herzegovina?uselang=cs)



Obrázek 5 a 6: Bosna a Hercegovina

Zdroj: [http://commons.wikimedia.org/wiki/File:Croatian\\_homerule.png?uselang=cs](http://commons.wikimedia.org/wiki/File:Croatian_homerule.png?uselang=cs)

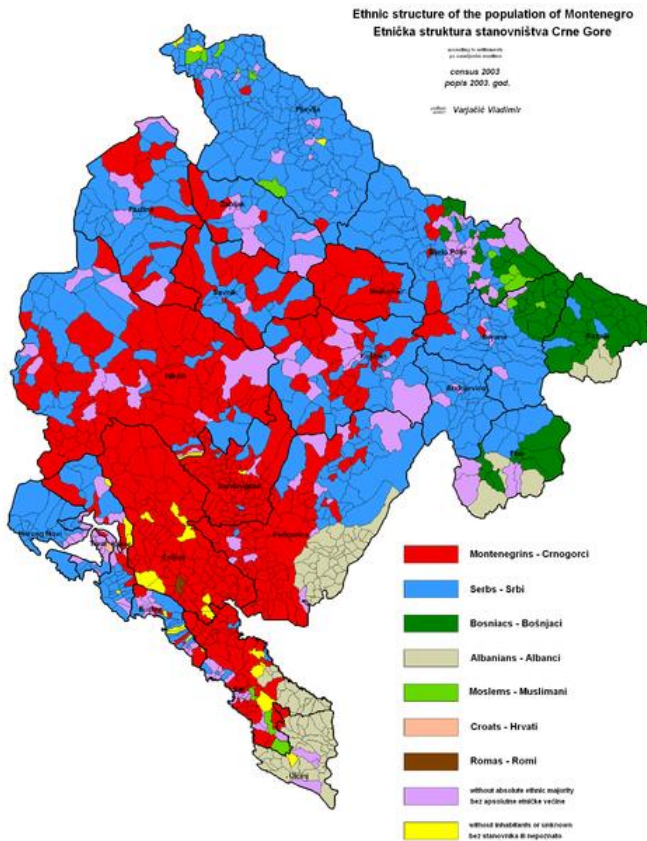
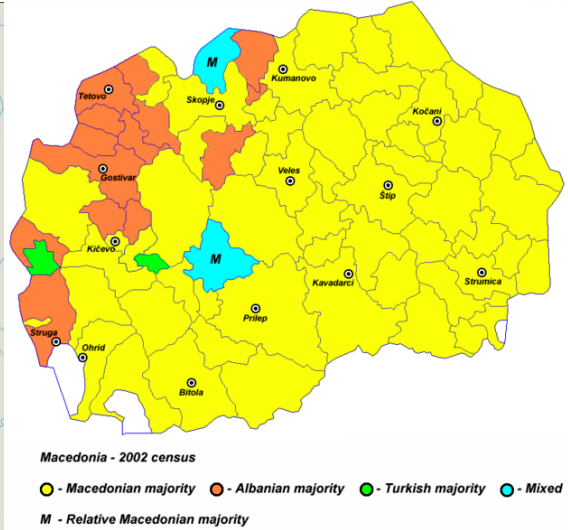
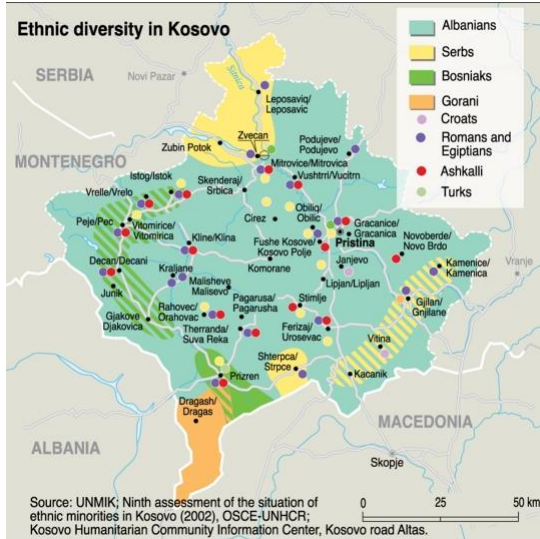
[http://commons.wikimedia.org/wiki/File:Bosnien-herzegovina\\_2-1225x1200.png?uselang=cs](http://commons.wikimedia.org/wiki/File:Bosnien-herzegovina_2-1225x1200.png?uselang=cs)

11) Vysvětlete názvy:

- a) Království SHS, SFRJ, Svazová republika Jugoslávie
- b) Republika Srbská Krajina, Republika Srbská v BaH
- c) Federace Bosny a Hercegoviny
- d) Daytonská mírová dohoda, UCK, ICTY
- e) Vojvodina, Kosovo, FYROM

INVESTICE DO ROZVOJE VZDĚLÁVÁNÍ

12) Popište národnostní složení v uvedených státech:



Obrázek 6: Národnostní složení Kosova, Makedonie, Černé Hory

Zdroj: <http://maps.grida.no/go/graphic/ethnic-diversity-in-kosovo>  
[http://www.newworldencyclopedia.org/entry/File:Macedonia\\_ethnic2002\\_03.png](http://www.newworldencyclopedia.org/entry/File:Macedonia_ethnic2002_03.png)  
<http://en.wikipedia.org/wiki/File:Montenegroetno03.png>



## INVESTICE DO ROZVOJE VZDĚLÁVÁNÍ

### Zdroje:

File:Serbia drainage basins-sr.GIF. *Wikipedia: the free encyclopedia* [online]. San Francisco (CA): Wikimedia Foundation, 2001- 2012, 11. 5. 2007 [cit. 2012-02-13]. Dostupné z: [http://commons.wikimedia.org/wiki/File:Serbia\\_drainage\\_basins-sr.GIF?uselang=cs](http://commons.wikimedia.org/wiki/File:Serbia_drainage_basins-sr.GIF?uselang=cs)

*Klimadiagramme weltweit* [online]. 14.9.2011 [cit. 2012-02-08]. Dostupné z: <http://www.klimadiagramme.de/>

Europe. *Central Intelligence Agency: The World Factbook* [online]. [cit. 2012-02-16]. Dostupné z: [https://www.cia.gov/library/publications/the-world-factbook/wfbExt/region\\_eur.html](https://www.cia.gov/library/publications/the-world-factbook/wfbExt/region_eur.html)

U.S. CIA. File:Yugoslavia ethnic map.jpg. *Wikimedia commons* [online]. 23. 12. 2006 [cit. 2012-02-11]. Dostupné z: [http://commons.wikimedia.org/wiki/File:Yugoslavia\\_ethnic\\_map.jpg?uselang=cs](http://commons.wikimedia.org/wiki/File:Yugoslavia_ethnic_map.jpg?uselang=cs)

REKACEWICZ, Philippe, Stephane KLUSER, Matthias BEILSTEIN, Ieva RUCEVSKA, Cecile MARIN a Otto SIMONETT. Political history of the Balkan region. *UNEP/GRID-Arendal* [online]. 2010 [cit. 2012-03-04]. Dostupné z: [http://www.grida.no/graphicslib/detail/political-history-of-the-balkan-region\\_dddb](http://www.grida.no/graphicslib/detail/political-history-of-the-balkan-region_dddb)

CEHA. File:Croatian homerule.png. *Wikimedia commons* [online]. 12. 6. 2009 [cit. 2012-02-18]. Dostupné z: [http://commons.wikimedia.org/wiki/File:Croatian\\_homerule.png?uselang=cs](http://commons.wikimedia.org/wiki/File:Croatian_homerule.png?uselang=cs)

WOLPERTINGER. File:Bosnien-herzegowina 2-1225x1200.png. *Wikimedia commons* [online]. 14. 4. 2005 [cit. 2012-02-18]. Dostupné z: [http://commons.wikimedia.org/wiki/File:Bosnien-herzegowina\\_2-1225x1200.png?uselang=cs](http://commons.wikimedia.org/wiki/File:Bosnien-herzegowina_2-1225x1200.png?uselang=cs)

REKACEWICZ, Philippe. Ethnic diversity in Kosovo. *UNEP/GRID-Arendal* [online]. 2010 [cit. 2012-03-04]. Dostupné z: [http://www.grida.no/graphicslib/detail/ethnic-diversity-in-kosovo\\_fa47](http://www.grida.no/graphicslib/detail/ethnic-diversity-in-kosovo_fa47)

PANONIAN. File:Macedonia ethnic2002 03.png. *Wikipedia: the free encyclopedia* [online]. 27. 6. 2007 [cit. 2012-03-04]. Dostupné z: [http://en.wikipedia.org/wiki/File:Macedonia\\_ethnic2002\\_03.png](http://en.wikipedia.org/wiki/File:Macedonia_ethnic2002_03.png)

BAPJA. File:Montenegroetno03.png. *Wikipedia: the free encyclopedia* [online]. 2007 [cit. 2012-03-04]. Dostupné z: <http://en.wikipedia.org/wiki/File:Montenegroetno03.png>