

## Východní Evropa

### Přírodní podmínky

1) Podle mapky lokalizujte významné celky reliéfu a vodní toky. Kde se nachází: Dunaj, Karpaty, Krymské hory, Hoverla, Dněpr, Dněstr, Roman Koš, Bug, Pinské bažiny, S. Doněc, Černomořská nížina, Dněperská nížina, Doněcký masív, Volyňsko-podolská vyvýšenina?  
Odkaz: [http://d-maps.com/carte.php?lib=ukraine\\_map&num\\_car=25311&lang=en](http://d-maps.com/carte.php?lib=ukraine_map&num_car=25311&lang=en)

2) Podle mapky popište využití řeky Dněpr. Použijte také následující odkaz:  
<http://cs.wikipedia.org/wiki/Dn%C4%9Bpr>



Obrázek 1: Povodí Dněpru

Zdroj: <http://commons.wikimedia.org/wiki/File:Dniepras.png?uselang=cs>



evropský  
sociální  
fond v ČR



EVROPSKÁ UNIE



MINISTERSTVO ŠKOLSTVÍ,  
MLÁDEŽE A TĚLOVÝCHOVY



OP Vzdělávání  
pro konkurenceschopnost



INVESTICE DO ROZVOJE VZDĚLÁVÁNÍ


3) Popište režim odtoku východoevropských řek. Načrtněte graf. Odkaz:  
[svp.muni.cz/download.php?docId=477](http://svp.muni.cz/download.php?docId=477)

4) Popište typy ústí Dněstru a Dněpru. Vysvětlete s pomocí obrázků:



Obrázek 2: Ústí Dněstru

Zdroj: [http://cs.wikipedia.org/wiki/Dn%C4%9Bstersk%C3%BD\\_liman](http://cs.wikipedia.org/wiki/Dn%C4%9Bstersk%C3%BD_liman)

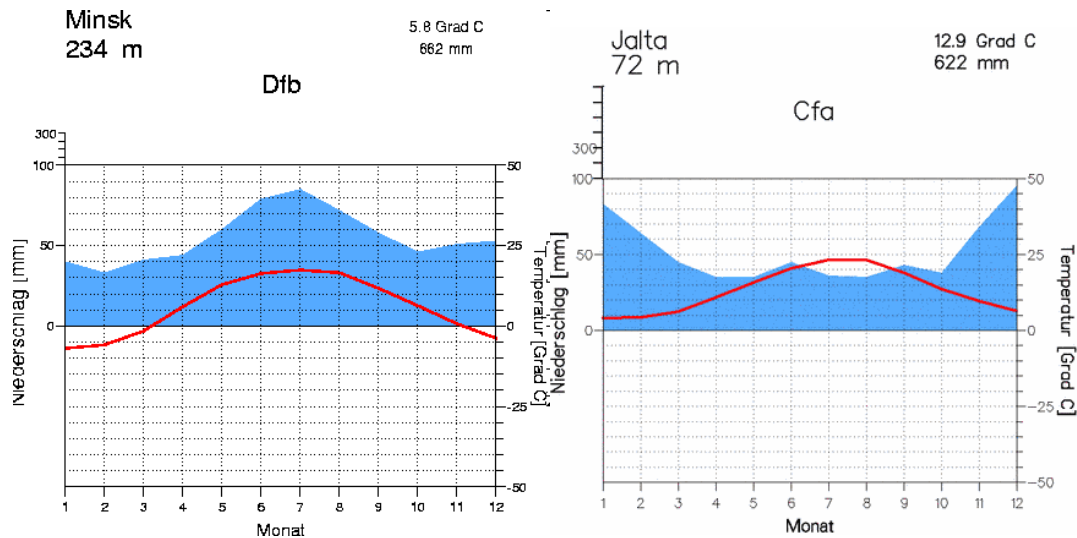


Obrázek 3: Ústí Dněpru

Zdroj: [http://cs.wikipedia.org/wiki/Soubor:Dnieper\\_32.03650E\\_46.60888N.jpg](http://cs.wikipedia.org/wiki/Soubor:Dnieper_32.03650E_46.60888N.jpg)

5) Pracujte s odkazem: <http://www.klimadiagramme.de/>

V jakých podnebných oblastech se nacházejí státy Východní Evropy? Jaký je roční chod tepla a srážek v uvedených lokalitách? Jaké půdy a jaká vegetace odpovídají jednotlivým podnebným oblastem? Vysvětlete pojmy podzol, step, černozem.



Obrázek 4: Klimadiagramy

Zdroj: <http://www.klimadiagramme.de/>

6) Který znáte národní park Východní Evropy? Co je předmětem ochrany v tomto parku? Kde se park nachází?



Obrázek 5: Poloha NP

Zdroj: [http://commons.wikimedia.org/wiki/File:Puszcza\\_Bia%C5%82owiecka\\_-\\_orientacyjne\\_po%C5%82o%C5%BCenie.png?uselang=cs](http://commons.wikimedia.org/wiki/File:Puszcza_Bia%C5%82owiecka_-_orientacyjne_po%C5%82o%C5%BCenie.png?uselang=cs)



Obrázek 6: Zubr evropský

[http://commons.wikimedia.org/wiki/File:Cuxhaven-Altenwalder\\_Heide,\\_Wisent\\_06.jpg?uselang=cs](http://commons.wikimedia.org/wiki/File:Cuxhaven-Altenwalder_Heide,_Wisent_06.jpg?uselang=cs)



## Státy

7) S pomocí odkazu:

[http://www.google.cz/publicdata/explore?ds=d5bncppjof8f9\\_&ctype=1&strail=false&bcs=d&nسلم=h&hl=cs&dl=cs](http://www.google.cz/publicdata/explore?ds=d5bncppjof8f9_&ctype=1&strail=false&bcs=d&nسلم=h&hl=cs&dl=cs)

porovnávejte státy Východní Evropy podle různých ukazatelů, komentujte grafy.

8) Porovnejte státy podle rozlohy a počtu obyvatel. Údaje aktualizujte podle níže uvedeného odkazu.

	rozloha (tis. km <sup>2</sup> )	počet obyvatel (mil.)
Estonsko	42,4	1,3
Lotyšsko	64,6	2,2
Litva	65,3	3,5
Bělorusko	207,6	9,6
Ukrajina	603,6	44,3
Moldavsko	33,9	3,6

Tabulka 1: Rozloha a počet obyvatel států Východní Evropy (údaje z roku 2014)

Zdroj: [https://www.cia.gov/library/publications/the-world-factbook/wfbExt/region\\_eur.html](https://www.cia.gov/library/publications/the-world-factbook/wfbExt/region_eur.html)

9) Vyjádřete se k ekonomice jednotlivých států.

10) Vysvětlete pojmy:

a) Minsk, Donbas, Homel, Lvov

b) Kryvyj Rih, Kišiněv, Oděsa, Podkarpatská Rus

c) Dněpropetrovsk, Krym, Podněstří, Sevastopol

d) Bělověžský prales, Simferopol, Černobyl, Bachčisaraj

INVESTICE DO ROZVOJE VZDĚLÁVÁNÍ

11) Popište národnostní složení, jazyky, typy písma a náboženské vyznání v jednotlivých státech Východní Evropy:



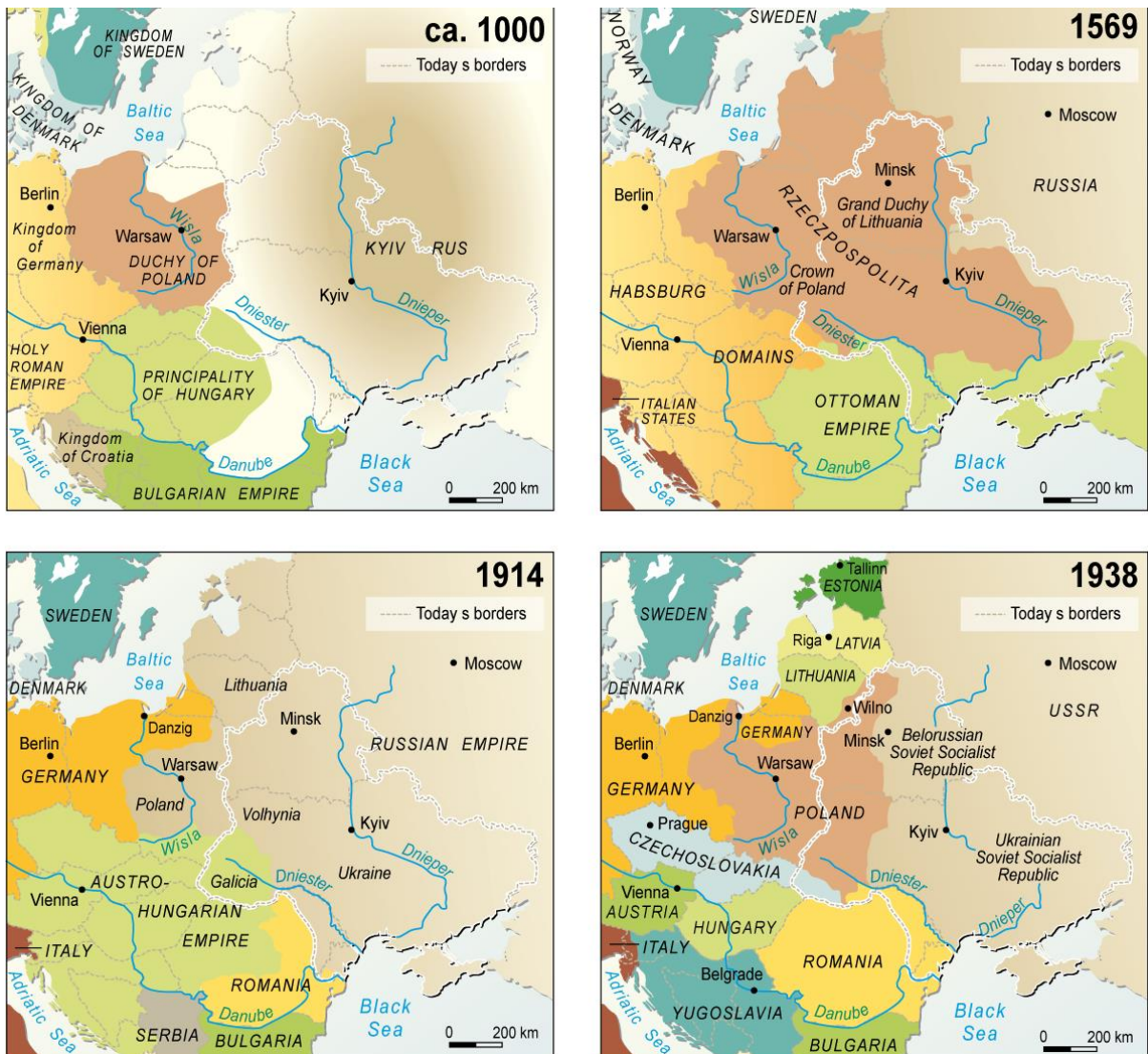
Obrázek 7: Národnostní složení Východní Evropy

Zdroj: [http://www.grida.no/graphicslib/detail/peoples-of-eastern-europe\\_11ed#](http://www.grida.no/graphicslib/detail/peoples-of-eastern-europe_11ed#)

- Které národnostní menšiny se vyskytují v jednotlivých státech? Proč?
- Které jazyky se píšou latinkou, které azbukou?
- Jaké zde převažuje náboženské vyznání ?

## Historický vývoj

12) S pomocí mapek popište, jak se změnila politická mapa Východní Evropy:

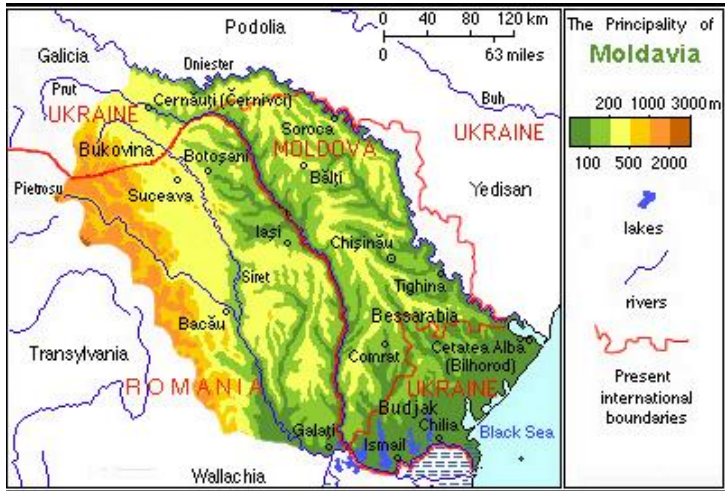


Obrázek 8: Historický vývoj Východní Evropy

Zdroj: <http://maps.grida.no/go/graphic/eastern-europe-through-history>



13) S pomocí mapek vysvětlíte problém Podněstří:



Obrázek 9: Historické území Moldávie

Zdroj: [http://en.wikipedia.org/wiki/History\\_of\\_Moldova](http://en.wikipedia.org/wiki/History_of_Moldova)



Obrázek 10: Podněstří

Zdroj: <http://cs.wikipedia.org/wiki/Podn%C4%9Bst%C5%99%C3%AD>

14) Vysvětlíte názvy:

- Podkarpatská Rus, Autonomní republika Krym, Volyň, Halič, Bukovina
- Gagauzská AO, Podněsterská Moldavská republika, Moldavsko, Moldávie, Besarábie



evropský  
sociální  
fond v ČR



EVROPSKÁ UNIE



MINISTERSTVO ŠKOLSTVÍ,  
MLÁDEŽE A TĚLOVÝCHOVY



OP Vzdělávání  
pro konkurenceschopnost



## INVESTICE DO ROZVOJE VZDĚLÁVÁNÍ

### Zdroje:

- KNUTUX. File:Dniepras.png. *Wikipedia: the free encyclopedia* [online]. 24. 8. 2005 [cit. 2012-03-11]. Dostupné z: <http://commons.wikimedia.org/wiki/File:Dniepras.png?uselang=cs>
- Soubor:Dniester liman.jpeg. *Wikipedia: the free encyclopedia* [online]. San Francisco (CA): Wikimedia Foundation, 2001- 2012, 6. 5. 2006 [cit. 2012-03-11]. Dostupné z: [http://cs.wikipedia.org/wiki/Soubor:Dniester\\_liman.jpeg](http://cs.wikipedia.org/wiki/Soubor:Dniester_liman.jpeg)
- NASA. Soubor:Dnieper 32.03650E 46.60888N.jpg. *Wikipedia: the free encyclopedia* [online]. 22. 6. 2005 [cit. 2012-03-11]. Dostupné z: [http://cs.wikipedia.org/wiki/Soubor:Dnieper\\_32.03650E\\_46.60888N.jpg](http://cs.wikipedia.org/wiki/Soubor:Dnieper_32.03650E_46.60888N.jpg)
- Klimadiagramme weltweit* [online]. 14.9.2011 [cit. 2012-03-11]. Dostupné z: <http://www.klimadiagramme.de/>
- PELNIK. File:Puszca Białowieska - orientacyjne polozenie.png. *Wikimedia commons*[online]. 10. 3. 2012 [cit. 2012-03-11]. Dostupné z: [http://commons.wikimedia.org/wiki/File:Puszca\\_Bia%C5%82owieska\\_-\\_orientacyjne\\_po%C5%82o%C5%BCenie.png?uselang=cs](http://commons.wikimedia.org/wiki/File:Puszca_Bia%C5%82owieska_-_orientacyjne_po%C5%82o%C5%BCenie.png?uselang=cs)
- FRANZFOTO. File:Cuxhaven-Altenwalder Heide, Wisent 06.jpg. *Wikimedia commons* [online]. 28. 3. 2012 [cit. 2012-03-11]. Dostupné z: [http://commons.wikimedia.org/wiki/File:Cuxhaven-Altenwalder\\_Heide,\\_Wisent\\_06.jpg?uselang=cs](http://commons.wikimedia.org/wiki/File:Cuxhaven-Altenwalder_Heide,_Wisent_06.jpg?uselang=cs)
- Europe. *Central Intelligence Agency: The World Factbook* [online]. [cit. 2012-03-15]. Dostupné z: [https://www.cia.gov/library/publications/the-world-factbook/wfbExt/region\\_eur.html](https://www.cia.gov/library/publications/the-world-factbook/wfbExt/region_eur.html)
- NOVIKOV, Viktor. Peoples of Eastern Europe. *UNEP/GRID-Arendal* [online]. 2007 [cit. 2012-03-15]. Dostupné z: [http://www.grida.no/graphicslib/detail/peoples-of-eastern-europe\\_11ed](http://www.grida.no/graphicslib/detail/peoples-of-eastern-europe_11ed)
- NOVIKOV, Viktor. Eastern Europe through history. *UNEP/GRID-Arendal* [online]. 2007 [cit. 2012-03-15]. Dostupné z: [http://www.grida.no/graphicslib/detail/eastern-europe-through-history\\_e078](http://www.grida.no/graphicslib/detail/eastern-europe-through-history_e078)
- MANOLIU, Spiridon. File:MoldavianPrincipalityPhysical.jpg. *Wikipedia: the free encyclopedia* [online]. 4. 5. 2008 [cit. 2012-03-15]. Dostupné z: <http://en.wikipedia.org/wiki/File:MoldavianPrincipalityPhysical.jpg>
- SERHIO. Soubor:TransnistrianRegionMap.png. *Wikipedia: the free encyclopedia* [online]. 2. 9. 2011 [cit. 2012-03-15]. Dostupné z: <http://cs.wikipedia.org/wiki/Soubor:TransnistrianRegionMap.png>